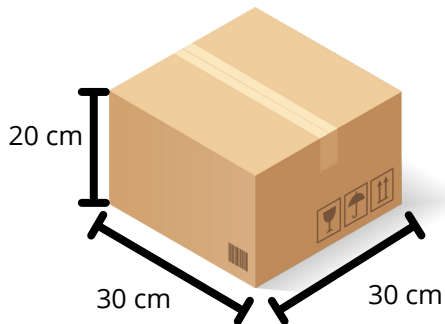


Sinterklaas speurtocht groep 7 en 8

- Knip de kaartjes uit (lamineer ze als je ze vaker wilt gebruiken)
- Hang ze verspreid op in de klas, op het plein, in de school of in de gymzaal.
- Geef de leerlingen per tweetal een antwoordenblad, ene potlood en uitrekenpapier en laat ze de antwoorden bij elkaar speuren.
- Zijn de opgaven te lastig? Gebruik dan de speurtocht voor groep 6.

Pakpiet moet dit cadeau inpakken:



Welk stuk papier past het best?

- S : Een stuk van 50 cm x 30 cm
- A : Een stuk van 20 cm X 100 cm
- P : Een stuk van 35 cm x 105 cm
- B: Een stuk van 90 cm x 90 cm

De stoomboot komt op 16 november aan in Nederland. Op 6 december vertrekken Sint en zijn Pieten weer. Hoeveel nachten zijn zij in Nederland?



- D : 21 nachten
- E : 20 nachten
- M : 19 nachten
- S : 22 nachten

Inpakpiet heeft gemiddeld 2 minuten en 40 seconden nodig om één cadeautje in te pakken. Hoe lang heeft hij nodig voor een stapel van 8 pakjes?



- P : 21 minuten en 20 seconden
- M : 19 minuten en 40 seconden
- G : 25 minuten en 10 seconden
- L : 18 minuten en 50 seconden

Bakpiet heeft 8 kilo pepernoten gebakken. Hij verdeelt ze over zakjes van 250 gram. Hoeveel zakjes pepernoten heeft hij dan?



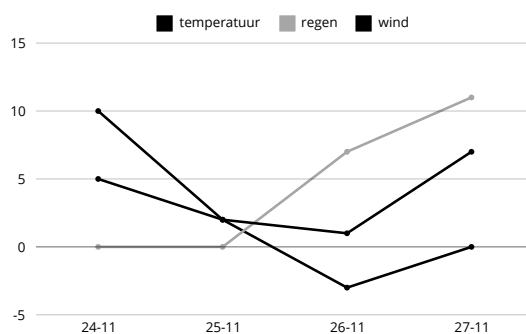
- S : 28 zakjes
- E : 32 zakjes
- K : 24 zakjes
- T : 40 zakjes

Van Spanje naar Nederland varen is ongeveer 1500 kilometer. Een stoomboot vaart ongeveer 40 kilometer per uur. Hoelang is de stoomboot onderweg?



D : 2 dagen en 8 uur
L : 1 dag en 21 uur
R : 1 dag en 13 uur en 30 minuten
V : 2 dagen en 30 minuten

Dit is de weersvoorspelling van de komende nachten. Op welke nacht kunnen de Pieten het veiligst de daken op om pakjes te bezorgen?



S : 24 november
N : 25 november
K : 26 november
I : 27 november

Hoeveel woorden heeft Sinterklaas kapoentje?



B : 12 woorden
Z : 13 woorden
U : 14 woorden
O : 15 woorden

De Hoge Flat heeft 16 verdiepingen. Elke verdieping heeft 8 appartementen. In de helft van de appartementen wonen kinderen. Bij hoeveel appartementen moet Piet een cadeautje bezorgen?




T : 64 appartementen
K : 128 appartementen
V : 32 appartementen
W : 44 appartementen

De staf hieronder is 4 cm lang. Hij is getekend met een schaal van 1 : 50. Hoe lang is de echte staf?



- A : 1.80 meter
- E : 2 meter
- F : 20 centimeter
- B : 180 centimeter

Ozosnel kan wel 72 kilometer per uur rennen. Vanavond moet hij naar Amsterdam. Van het pakjeshuis naar Amsterdam is het 20 minuten rennen. Hoeveel kilometer heeft Ozosnel dan gerend?



- G : 32 kilometer
- S : 36 kilometer
- N : 24 kilometer
- B : 28 kilometer

Antwoordenblad Sint Speurtocht

Letter:

Antwoord:



Oplossing : _____

Antwoorden

P : 35 cm x 105 cm

E : 20 nachten

P : 21 minuten en 20 seconden

E : 32 zakjes

R : 1 dag 13 uur en 30 minuten

N : 25 november

O : 15 woorden

T : 64 appartementen

E : 2 meter

N : 24 kilometer